

Probeunterricht 2021 an Wirtschaftsschulen in Bayern

Mathematik 8. Jahrgangsstufe

Arbeitszeit Teil I (Zahlenrechnen)

Seiten 1 bis 5: 45 Minuten

Arbeitszeit Teil II (Textrechnen)

Seiten 6 bis 10: 45 Minuten

Name:

Vorname:

Bewertung (Erstkorrektor)		Bewertung (Zweitkorrektor)	
Punkte Teil I		Punkte Teil I	
Punkte Teil II		Punkte Teil II	
Summe		Summe	
Note		Note	
Gesamtnote			
..... Unterschrift (Erstkorrektor)	 Unterschrift (Zweitkorrektor)	

Hinweise:


- Bei allen Aufgaben muss der Lösungsweg nachvollziehbar sein!
- Zugelassene Hilfsmittel: nicht programmierbarer elektronischer Taschenrechner

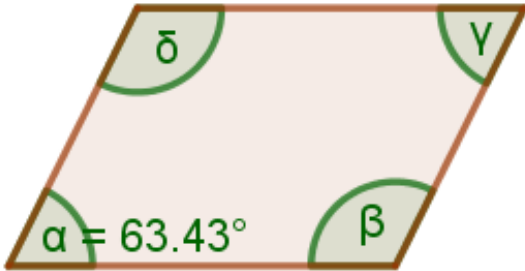
Name: Vorname:

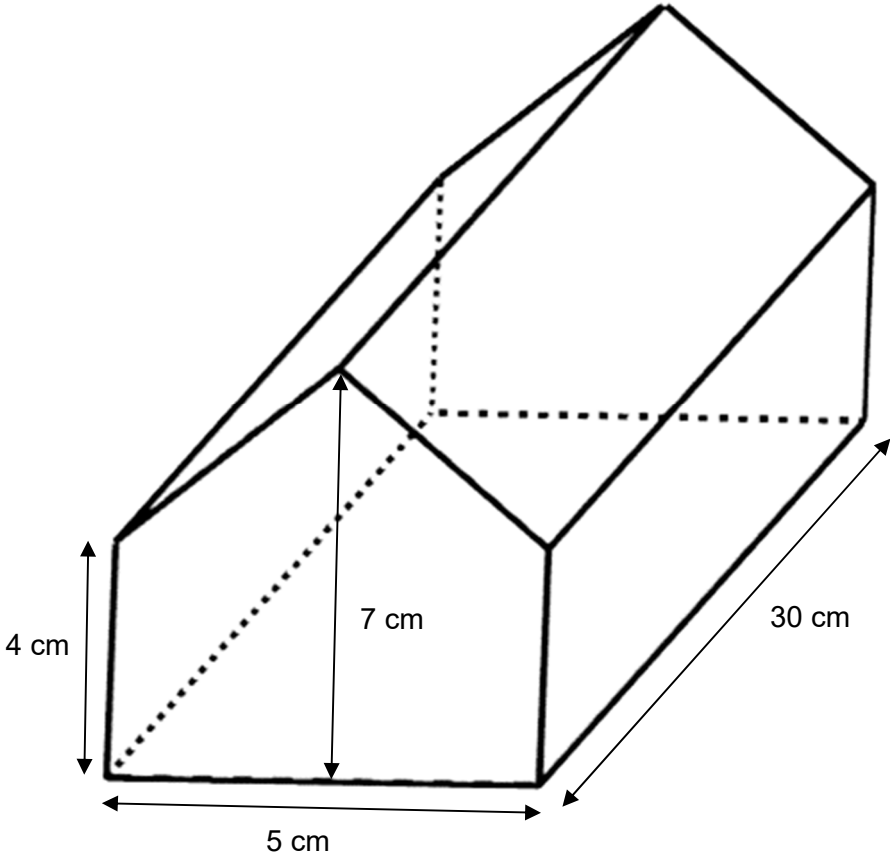
Hinweise:

- Bei allen Aufgaben muss der Lösungsweg nachvollziehbar sein!
- Zugelassene Hilfsmittel: nicht programmierbarer elektronischer Taschenrechner

	Aufgabe	Punkte
1	<p>Ordne die folgenden Zahlen der Größe nach, beginne mit der kleinsten.</p> <div style="display: flex; justify-content: space-around; align-items: center;"> <div style="border: 1px solid black; padding: 5px; text-align: center;">$\frac{3}{7}$</div> <div style="border: 1px solid black; padding: 5px; text-align: center;">0,337</div> <div style="border: 1px solid black; padding: 5px; text-align: center;">$\frac{17}{33}$</div> <div style="border: 1px solid black; padding: 5px; text-align: center;">$\frac{13}{37}$</div> <div style="border: 1px solid black; padding: 5px; text-align: center;">0,37</div> </div> <p style="text-align: center; margin-top: 20px;">_____ < _____ < _____ < _____ < _____</p>	2
2	Stelle jeweils eine Gleichung auf, eine Berechnung ist nicht nötig.	
2.1	Addiert man zum Doppelten einer Zahl 14, so erhält man das 4,8fache der gesuchten Zahl.	2
2.2	Subtrahiert man das Zehnfache einer Zahl von 19, so erhält man das Vierfache der Differenz aus der gesuchten Zahl und 10.	2
3	Ein Kreis hat einen Radius von 5 cm. Bestimme den Umfang und den Flächeninhalt dieses Kreises.	2

4	<p>Eine rechteckige Wiese soll mit Hilfe eines Zauns in sechs gleich große Boxen unterteilt werden, so dass darin Hasen gehalten werden können. Dabei ist – wie in der Abbildung dargestellt – a die Breite und b die Länge einer der Boxen.</p> 	
4.1	<p>Gib einen Term an, der in Abhängigkeit von a und b die benötigte Zaunlänge angibt.</p>	1
4.2	<p>Es soll gelten: $a = 4,5 \text{ m}$ und $b = 2 \text{ m}$. Bestimme den Flächeninhalt des gesamten rechteckigen Wiesenstücks und gib das Ergebnis in dm^2 an.</p>	3
5	<p>Löse die Gleichungen nach der Variablen x auf.</p>	
5.1	$6 \cdot (-5x + 4) = -(3 - 2x) + x$	3

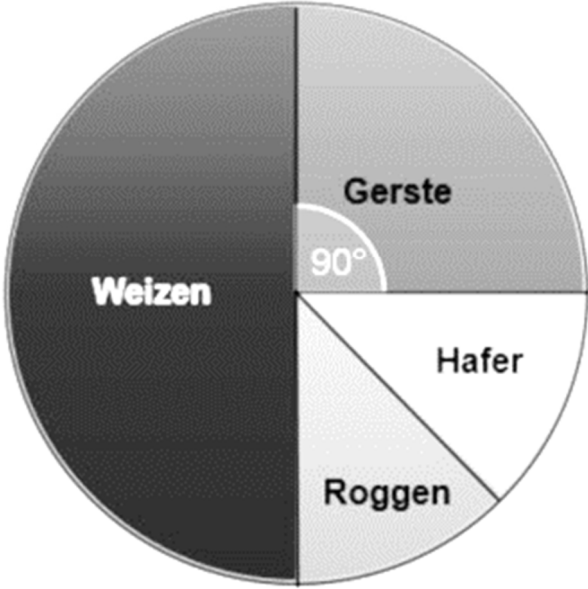
<p>5.2</p>	$-3x - 3 = -3 \cdot (-3x + 3)$	<p> 2</p>
<p>6</p>	<p>Gegeben ist die Funktion $f: y = 2x + 1$. Überprüfe, ob der Punkt $P(0,5 3)$ auf dem Graphen von f liegt.</p>	<p> 3</p>
<p>7</p>	<p>Die Abbildung zeigt ein Parallelogramm. Bestimme die Winkel β, γ und δ.</p>  <p>The diagram shows a parallelogram with a light pink fill and a brown border. The bottom-left interior angle is labeled $\alpha = 63.43^\circ$. The bottom-right interior angle is labeled β. The top-left interior angle is labeled δ. The top-right interior angle is labeled γ. Green arcs are drawn around each of these four angles to indicate they are to be determined.</p>	<p> 2</p>

<p>8</p>	<p>Bestimme das Volumen des abgebildeten Prismas.</p> 	<p> 3</p>
<p style="text-align: right;">Summe</p>		<p> 25</p>

Name: Vorname:

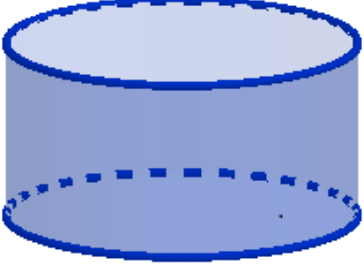
Hinweise:

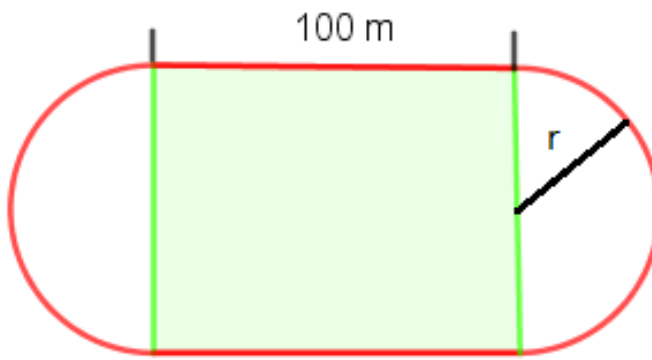
- Bei allen Aufgaben muss der Lösungsweg nachvollziehbar sein!
- Zugelassene Hilfsmittel: nicht programmierbarer elektronischer Taschenrechner

	Aufgabe	Punkte
1	<p>In einer Region, in der insgesamt 230 Hektar landwirtschaftlich genutzt sind, werden nur die vier Getreidesorten Gerste, Weizen, Roggen und Hafer angebaut. Das Kreisdiagramm gibt an, welchen Flächenanteil eine Sorte jeweils einnimmt.</p> <p style="text-align: center;">Getreidesorten</p> 	
1.1	<p>Gib den Anteil von Gerste und Roggen in Prozent an, wenn bekannt ist, dass die Anbauflächen von Roggen und Hafer gleich groß sind und die Hälfte der gesamten Fläche mit Weizen angebaut ist.</p> <p>Gerste = _____</p> <p>Hafer = _____</p>	2
1.2	<p>Berechne, auf wie vielen Hektar Weizen angebaut wird.</p>	1

1.3	<p>Der Anteil der landwirtschaftlichen Fläche von aktuell 230 ha soll um 30 % erhöht werden. Berechne die neue Gesamtanbaufläche.</p>	2
1.4	<p>Gib die Größe des Winkels an, der die Sorte Hafer im Kreisdiagramm beschreibt.</p>	1
2	<p>Frau Müller bezieht ihren Strom von der Firma Topstrom. Als jährliche Grundgebühr muss sie einmalig 160,00 € und für jede verbrauchte Kilowattstunde (kWh) 0,28 € bezahlen.</p>	
2.1	<p>Berechne, wie viele kWh Strom verbraucht wurden, wenn sie eine Jahresendrechnung über 1.426,16 € erhält.</p>	2
2.2	<p>Das Konkurrenzunternehmen Bayernstrom verlangt als jährliche Grundgebühr 80,00 € und pro kWh 0,32 €. Berechne, ob es für Frau Müller sinnvoll ist den Anbieter zu wechseln, wenn sie mit einem jährlichen Stromverbrauch von 4 500 kWh rechnet.</p>	2

3	Familie Huber möchte ein neues Haus bauen. Zwei Maurer und ein Auszubildender benötigen dafür insgesamt 4 Wochen, wobei jeder der Arbeiter pro Woche 40 Stunden arbeitet.									
3.1	Berechne die Kosten für den Arbeitslohn, wenn die Baufirma für eine Maurerstunde 44,00 € und für eine Auszubildendenstunde 35,00 € berechnet.	2								
3.2	<p>Entscheide, mit welchem Term die Kosten $K(x)$ für einen Auszubildenden berechnet werden können, wenn x die Anzahl der Stunden sein soll.</p> <table border="1" data-bbox="316 1106 1331 1279"> <thead> <tr> <th data-bbox="316 1106 590 1178">A</th> <th data-bbox="598 1106 863 1178">B</th> <th data-bbox="871 1106 1136 1178">C</th> <th data-bbox="1144 1106 1331 1178">Lösung</th> </tr> </thead> <tbody> <tr> <td data-bbox="316 1182 590 1279">$K(x) = 35 \cdot x$</td> <td data-bbox="598 1182 863 1279">$K(x) = 44 \cdot x$</td> <td data-bbox="871 1182 1136 1279">$K(x) = 35 \cdot x + 10$</td> <td data-bbox="1144 1182 1331 1279"></td> </tr> </tbody> </table>	A	B	C	Lösung	$K(x) = 35 \cdot x$	$K(x) = 44 \cdot x$	$K(x) = 35 \cdot x + 10$		1
A	B	C	Lösung							
$K(x) = 35 \cdot x$	$K(x) = 44 \cdot x$	$K(x) = 35 \cdot x + 10$								
3.3	Der Bauunternehmer verlangt nach Abschluss der Arbeiten 35.000,00 €. Mit Hilfe seines Verhandlungsgeschicks erreicht Herr Huber, dass seine Familie nur 32.000,00 € bezahlen muss. Berechne, wie viel Prozent Rabatt Familie Huber erhalten hat.	2								

4	<p>Ein zylinderförmiges Schwimmbecken hat eine Höhe von 1,50 m und einen Durchmesser von 5,40 m.</p>		
4.1	<p>Bestimme das Volumen des Beckens in Litern.</p>	3	
4.2	<p>Das leere Becken soll mit dem Gartenschlauch gefüllt werden. Berechne die Fülldauer in Stunden, wenn pro Minute 80 Liter in das Becken laufen und es mit 30 000 Litern gefüllt wird.</p>	2	
4.3	<p>Das Becken wird innen mit einer Farbe gestrichen. Ein Eimer Farbe reicht für 5 m². Berechne, wie viele Eimer benötigt werden.</p>	3	

<p>5</p>	<p>Bei einem olympischen Stadion ist die Laufbahn um das in der Mitte liegende Fußballspielfeld 400 Meter lang. Die Länge des Spielfelds beträgt 100 Meter.</p>  <p>Bestimme den Flächeninhalt, der von der Laufbahn umschlossen wird, wenn der Radius $r = 31,83$ m beträgt.</p>	<p> 2</p>
	<p>Summe</p>	<p> 25</p>